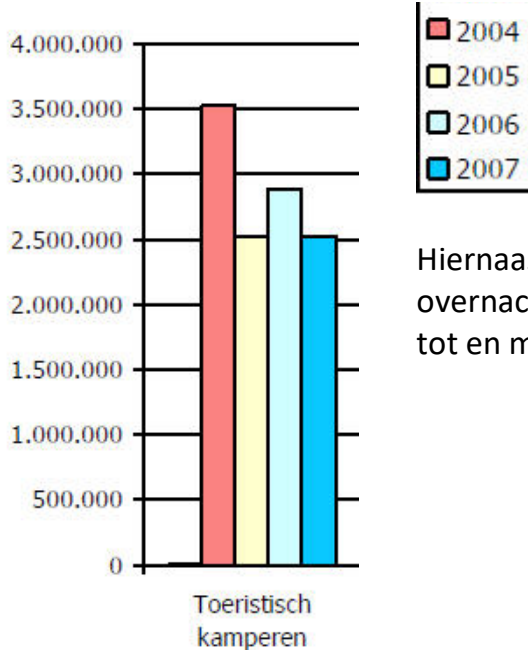


6 – Toerisme in Zeeland

Zeeland is een populair vakantiegebied. Er komen in de zomer veel toeristen, zowel uit Nederland als uit het buitenland. Kamperen in Zeeland is een populaire overnachtingsvorm bij alle buitenlandse gasten.



22.



Hiernaast zie je een staafdiagram van het aantal overnachtingen op campings in Zeeland van 2004 tot en met 2007

a. In welk jaar was het aantal overnachtingen het hoogst?

.....

b. Hoeveel overnachtingen minder zijn er in 2007 dan in 2004?

.....

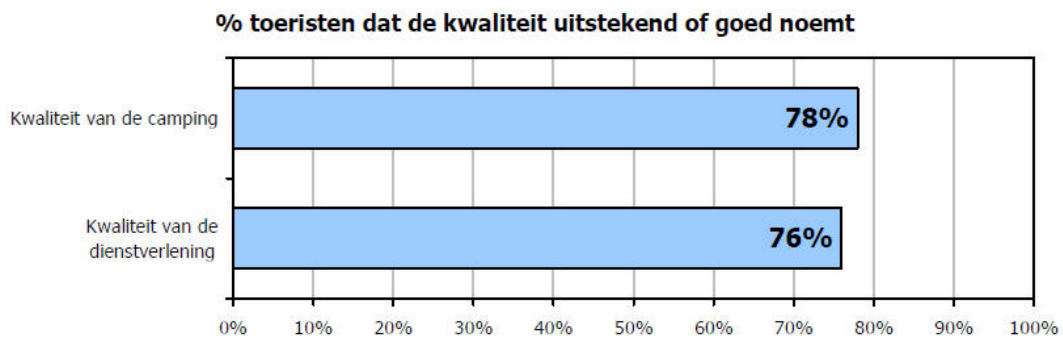
c. Schat het aantal overnachtingen in 2006.

.....

d. Vul de zin aan:

Het aantal kampeernachtingen in Zeeland is de laatste jaren

23. Er is onderzocht hoe tevreden de kampeerders over de campings zijn. Ongeveer 300.000 toeristen zijn ondervraagd. Hier zie je het resultaat.



- a. Hoeveel procent van de mensen vond de kwaliteit van de camping uitstekend of goed? %
Hoeveel mensen zijn dat?
.....
- b. Hoeveel procent vindt de kwaliteit van de camping **niet** uitstekend of goed?
.....
- c. Welke antwoorden kunnen die mensen gegeven hebben?
.....

UITLEG

Van gegevens uit een onderzoek, zoals een poll of een enquête, kun je een grafiek of diagram maken. Je kunt verschillende soorten grafieken maken:

- beelddiagram
- staafgrafiek
- lijngrafiek
- cirkeldiagram

24. Zoek van elke soort diagram een plaatje en plak of teken het hieronder.


Beelddiagram Staafgrafiek Lijngrafiek Cirkeldiagram

25. Op de website van camping de Duin stond een poll. Dit is het resultaat:

Bij de keuze van een camping is het belangrijk dat

<i>De camping dicht bij zee ligt</i>	657
<i>Er een zwembad is</i>	505
<i>Er een zwembad met wellness is</i>	144
<i>Er een binnen speeltuin is</i>	108
<i>Er speeltoestellen zijn over heel de camping</i>	108
Totaal	1522


- a. Maak een horizontale staafgrafiek van de uitslag van deze poll, door te staven in te kleuren. 1 hokje is 100 stemmers.



- a. Ongeveer welk deel van de stemmers vindt het belangrijk dat er een zwembad is?
- een tiende deel
 - een vijfde deel
 - een derde deel
 - de helft
 -

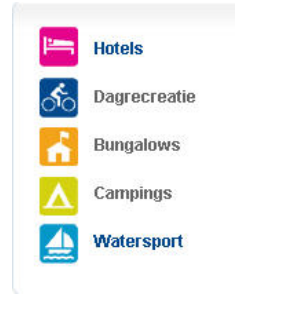
- b. "Ongeveer 10% van de stemmers vindt het belangrijk dat er een zwembad met wellness is".
Klopt deze uitspraak? Ja/nee, want

- c. Welk cirkeldiagram past bij de uitslag van deze poll?



Uitleg:

De kosten van een kampeervakantie kunnen worden omgerekend naar kosten per persoon per vakantiedag: **gemiddeld** is dat in Zeeland € 20. Dit bedrag is inclusief de kosten van de camping, kosten van boodschappen, dagjes uit en alle andere activiteiten die tijdens de vakantie worden ondernomen.



26. Lees de tekst hierboven, wat is waar?

- a. - Kamperen in Zeeland kost € 20 per dag. nooit waar/soms waar/altijd waar
- Iedereen die in Zeeland kampeert geeft elke dag precies € 20 uit. nooit waar/soms waar/altijd waar
- Iedereen die in Zeeland kampeert geeft op de middelste dag € 20 uit. nooit waar/soms waar/altijd waar
- b. Hoe hebben ze volgens jou uitgerekend dat de kosten van een kampeervakantie in Zeeland per persoon per vakantiedag gemiddeld € 20 zijn?

.....

.....

.....

UITLEG

Ken jij het woord ‘gemiddelde’? Vast wel. Je gemiddelde cijfer staat op je rapport, en Nederlanders beoordelen hun vakantie in eigen land gemiddeld met een 7,69¹. Weet jij van allebei hoe je dat kunt berekenen?
 - Je telt alle cijfers op en deelt ze door het aantal. Let op als iets 2x meetelt!

Kijk nog eens terug naar je antwoord op vraag 26b.

¹ Volgens een onderzoek van Zoover in 2008. Zoover heeft voor het onderzoek 40.000 beoordelingen van bestemmingen wereldwijd geanalyseerd.

27. In 2008 werden door 194.700 buitenlandse gasten gezamenlijk 1.164.300 nachten op Zeeuwse campings doorgebracht.

a. Bereken hoeveel nachten een buitenlandse gast in 2008 **gemiddeld** in Zeeland kampeerde.

.....

.....

b. Hoeveel geld gaf een buitenlandse kampeerder tijdens zijn kampeervakantie in Zeeland gemiddeld uit? TIP: gebruik de informatie boven vraag 26.

.....

.....

28. EXTRA

Kijk nog eens terug in dit boekje en maak eerst een overzicht van alle kosten voor het kamperen met zijn vieren in Zeeland:

- reiskosten (Hfdst.2)
- camping (Hfdst.1 en Hfdst.3)
- eten (o.a. pannenkoeken, Hfdst.4)
- dagje uit (Hfdst.5)
-

en bereken dan de gemiddelde kosten per persoon per dag.

.....

.....

.....